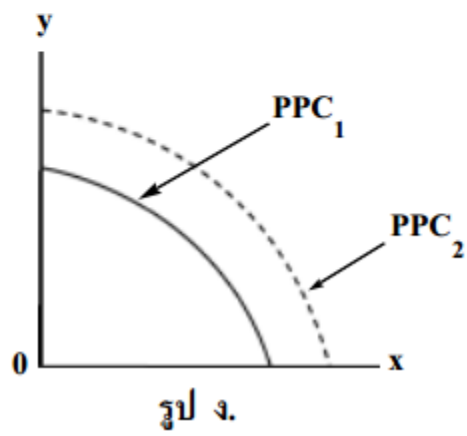
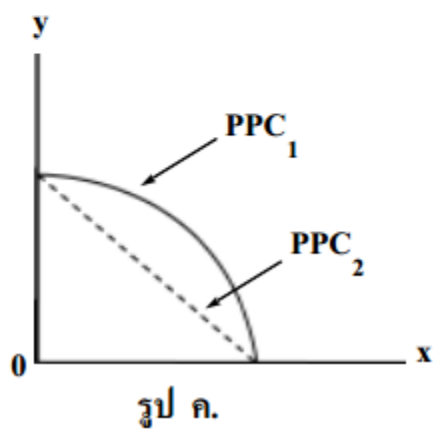
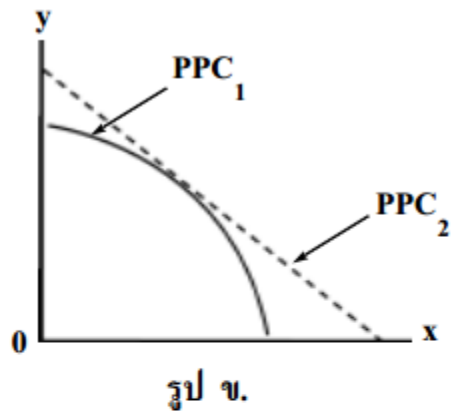
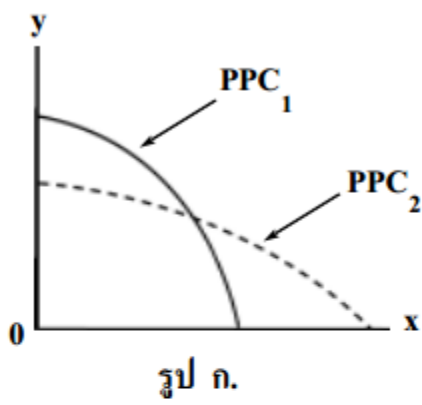


ผลดีของการนำเทคโนโลยีมาใช้ในการผลิต ทำให้เส้นการผลิตที่เป็นไปได้ (production possibility curve)

PPC_1 เปลี่ยนเป็นเส้น PPC_2 ตามรูปใด



1. รูป ก

2. รูป ข

3. รูป ค

4. รูป ง

2 ความหมายของคำว่า มุสลิม ในข้อใดถูกต้องที่สุด

1. ผู้รักความสงบ
2. ผู้มีศรัทธาต่อพระเจ้า
3. ผู้ยอมมอบตนต่อพระเจ้า
4. ผู้ปฏิบัติตามโองการของพระเจ้า

3 พระพุทธเจ้าทรงบรรลุญาณใด ที่ทำให้ตรัสรู้อรุณสังข 4

1. จตุปปาต
2. อาสวัภย
3. อานาปานสติ
4. ปุพเพนิวาสานุสสติ

4 กฎแห่งกรรมอยู่ในหลักธรรมใด

1. นิยาม 5
2. ชันท์ 5
3. พละ 5
4. วิมุตติ 5

5 วิธีคิดแบบสามัญลักษณ์ะคือการคิดแบบใด

1. มัชฌิมาปฏิปทา
2. ไตรลักษณ์
3. อานาปานสติ
4. ปฏิจจสมุปบาท

6 การใช้หลักการใดก่อให้เกิดความยุติธรรมในสังคมได้ดีที่สุด

1. หลักภราดรภาพ
2. หลักเสียงข้างมาก
3. หลักการมีส่วนร่วม
4. หลักความเสมอภาค

7 พฤติกรรมใดของพลเมืองที่ขัดขวางการพัฒนาทางการเมือง
ตามระบอบประชาธิปไตย

1. การรณรงค์หาเสียง
2. การชุมนุมประท้วง
3. การนอนหลับทับสิทธิ์
4. การเรียกร้องสิทธิประโยชน์

8 การปกครองตนเองของประชาชนแบบประชาธิปไตยเริ่มปรากฏขึ้นตั้งแต่เมื่อใด

1. สมัยกลาง
2. สมัยโรมัน
3. สมัยกรีกโบราณ
4. สมัยฟื้นฟูศิลปวิทยา

9 ในระบอบประชาธิปไตยอันมีพระมหากษัตริย์ทรงเป็นประมุข ใครคือผู้มีอำนาจ
สูงสุดของประเทศ

1. พระมหากษัตริย์
2. ประชาชน
3. รัฐบาล
4. รัฐสภา

10 ประเทศใดเป็นทั้งสมาชิกกลุ่ม ASEAN และ APEC

1. ลาว
2. พม่า
3. กัมพูชา
4. เวียดนาม

11 ข้อความใดเกี่ยวกับเศรษฐกิจมหภาค

1. ปีนี้โรงสีนายกู๋รับซื้อข้าวเปลือกในราคาตันละ 9,500 บาท
ต่ำกว่าราคาที่รัฐบาลรับจำนำ
2. ร้านค้าทองขายทองคำแท่งในราคาที่สูงกว่าเมื่อเดือนที่แล้วร้อยละ 5
3. สินค้าออกของไทยมีมูลค่าเพิ่มขึ้นจากปีที่แล้วร้อยละ 10
4. ผลผลิตเงาะปีนี้เพิ่มขึ้นมาก ทำให้ราคาตกเหลือเพียงกิโลกรัมละ 5 บาท

12 วิชาเศรษฐศาสตร์เป็นศาสตร์ในสาขาใด เพราะเหตุใด

1. สังคมศาสตร์ เพราะศึกษาพฤติกรรมของมนุษย์
2. วิทยาศาสตร์ประยุกต์ เพราะสามารถใช้อธิบายปรากฏการณ์ที่เกิดขึ้นจริงได้
3. ศึกษาศาสตร์ เพราะไม่ต้องใช้คณิตศาสตร์เป็นเครื่องมือในการวิเคราะห์
4. ตรรกวิทยา เพราะผลการศึกษาดำเนินการสอดคล้องกับหลักเหตุและผล

13 แผนพัฒนาเศรษฐกิจและสังคมแห่งชาติฉบับใด อัญเชิญ “ปรัชญาเศรษฐกิจพอเพียง” ตามพระราชดำรัสของพระบาทสมเด็จพระเจ้าอยู่หัวมาเป็นปรัชญานำทางในการพัฒนาประเทศเป็นฉบับแรก

1. แผนพัฒนาฯ ฉบับที่ 7
2. แผนพัฒนาฯ ฉบับที่ 8
3. แผนพัฒนาฯ ฉบับที่ 9
4. แผนพัฒนาฯ ฉบับที่ 10

14 ในดินแดนเอเชียตะวันออกเฉียงใต้ปัจจุบันใดมีความหลากหลายมากที่สุด

1. ศาสนา
2. กลุ่มชาติพันธุ์
3. การประกอบอาชีพ
4. สภาพภูมิศาสตร์

15 นักมนุษยนิยมเป็นผลผลิตของโลกตะวันตกในยุคใด

1. Romantic
2. Realistic
3. Reformation
4. Renaissance

ଉତ୍ତର

1. 4 2. 3 3. 2 4. 1 5. 2 6. 4 7. 3 8. 3 9. 2 10. 4 11. 3
12. 1 13. 3 14. 2 15. 4

www.02daul.com